

الصف الثالث الثانوي

النموذج العاشر

1) تستعين الحكومة المصرية في إدارة حركة الملاحة بقناة السويس الجديدة بإحدى التقنيات الحديثة وهي

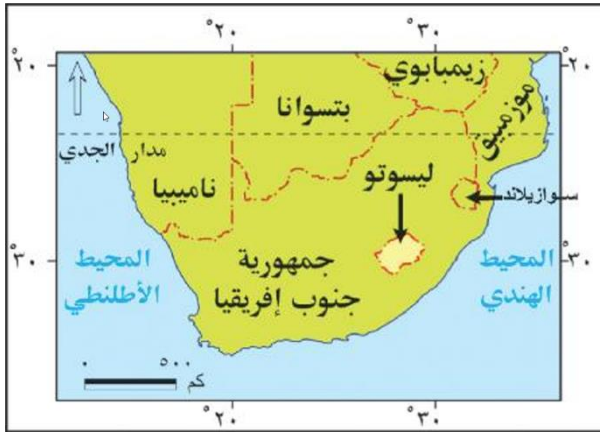
أ - الاستشعار من بعد ب- وسائل الاتصال

ج - خرائط استخدام الارض د- نظم المعلومات الجغرافية

2) أقل الأقليات انتشارًا علي خريطة العالم السياسية تتمثل في

أ - الزنوج في الولايات المتحدة ب- المسلمين في أوروبا

ج - الأكراد في إيران د- السلاف في مقدونيا



3) ادرس الخريطة المقابلة ثم استنتج

إذا كونت جمهورية جنوب افريقيا وبوتسوانا اتحاد كونفدرالي

تتوقع أي من الدول الآتية ستندمج اليها أولاً؟

أ - موزمبيق ب- زيمبابوي

ج - ليسوتو د- سوازيلاند

4) تغلبت استراليا على سلبيات الموقع الهامشي لها من خلال

أ - القوة العسكرية ب- الوزن الإقتصادي

ج - القوة الديموغرافية د- الموقع الجغرافي

5) ساهم التقدم العلمي التكنولوجي في التقليل من الأثر السلبي للمناخ وأكثر القارات نجاحا في ذلك

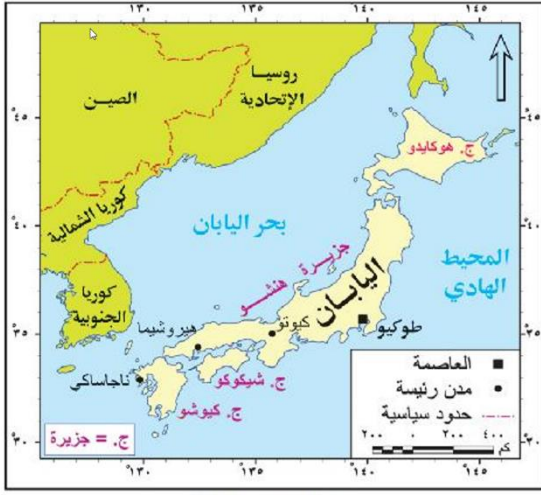
أ - اسيا وأفريقيا ب- أوروبا وأمريكا الجنوبية

ج - أفريقيا وأوروبا د- أمريكا الشمالية وأوروبا

6) ارتبطت نشأة الحدود السياسية في قارة أوروبا بـ

أ - المعاهدات المبرمة بين الدول ب- ارتفاع الزيادة الطبيعية

ج - تقسيم الاستعمار لمستعمراته د- تنمية المناطق الهامشية



(7) ادرس الخريطة المقابلة ثم استنتج

تتشابه مدينتا طوكيو اليابانية وأبوجا النيجيرية في

- أ - موقع العاصمة
- ب- تصنيف العاصمة
- ج - الحماية والدفاع
- د- السيادة القومية

(8) " المرتفعات لها مميزات عديدة ، إلا أنها قد تقف عائقاً أمام تحقيق النموذج المثالي للدولة المركزية "

تنطبق العبارة السابقة علي دولة

- أ - الصين
- ب - فرنسا
- ج- مصر
- د- اليابان

(9) المدينة التي تعد سببا في نشأة الأحلاف العسكرية الكبرى

- أ - وارسو
- ب- بروكسل
- ج - واشنطن
- د- برلين

(10) أدي سقوط الاتحاد السوفيتي إلي نتائج ايجابية أيولوجيا علي منطقة

- أ - جنوب غرب أوروبا
- ب- شرق أفريقيا
- ج - شمال شرق آسيا
- د- غرب أوروبا

(11) "عُقدت بعض الاتفاقيات الخاصة بالأنهار الدولية في النصف الثاني من القرن التاسع عشر "

في ضوء العبارة استنتج

الدولة التي عُقدت فيها هذه الاتفاقيات تتميز بأنها لها

- أ - عاصمة تاريخية
- ب- نظام فيدرالي
- ج - طبيعة جبلية
- د- نظام رئاسي

(12) دولة تمتد سيادتها خارج اطارها الفلكي

- أ - اوزبكستان
- ب- منغوليا
- ج - ارمينيا
- د- تركيا

13) "يستخرج المطاط الطبيعي من أشجار الغابات الاستوائية"

في ضوء العبارة استنتج

يصعب نمو هذه الغابات في دولة

أ - نيجيريا

ب - إندونيسيا

ج - البرازيل

د - المغرب

14- "خرجت سفينة من ميناء جده واتجهت لترسو في ميناء السويس"

في ضوء العبارة استنتج

أي أنواع المياه ستوجد فيها هذه السفينة عند وصولها ؟

أ - الداخلية

ب - الاقليمية

ج - المحايدة

د - الملاصقة

15) ادرس الخريطة التي أمامك ثم استنتج:

بعد انفصال دولة جنوب السودان عن دولة السودان

زاد عدد الدول

أ - الحبيسة المشتركة مع حدود أوغندا

ب - البحرية المشتركة في حوض النيل

ج - البحرية المشتركة مع حدود السودان

د - الحبيسة المشتركة مع حدود السودان



16) - أي من الدول التالية تفتقد إلى إشرافها على مواقع

استراتيجية عالمية

أ - الجزائر

ب - سلطنة عمان

ج - إيران

د - جيبوتي

17) تؤثر العوامل المورفولوجية بالسلب علي قوة الدولة العسكرية كما في دولة

أ - الصين

ب - البرازيل

ج - جيبوتي

د - روسيا

18) ادرس الجدول التالي ثم استنتج

الدولة التي تستطيع السيطرة بكفاءة علي كافة

أجزائها يرمز لها بالرمز

أ - (س) ب - (ص)

ج - (ع) د - (ل)

الدولة	طولها بالكم	عرضها بالكم	الموقع بالنسبة لدوائر العرض
س	4270	175	30 جنوباً و 51 جنوباً
ص	1000	1100	32 شمالاً و 52 شمالاً
ع	500	3000	20 جنوباً و 25 جنوباً
ل	1350	200	34 شمالاً و 36 شمالاً

19) يوجد العديد من التجمعات الدولية والاقليمية تستطيع بعض دولها تعطيل قرارات مجلس الأمن يخرج عنها

أ - الناتو والنافتا ب - الاتحاد الأوروبي والنافتا

ج - الأبيك والاتحاد الأوروبي د - الكوميسا وقوات درع الجزيرة

20) يقل الامتزاج الثقافي في حوض نهر

أ - النيل ب - السين

ج - الفولجا د - بو

21) تم توقيع ميثاقى الامم المتحدة وحلف الناتو بدولة

أ - تفتقد للتنوع المناخي ب - نظام حكمها رئاسي

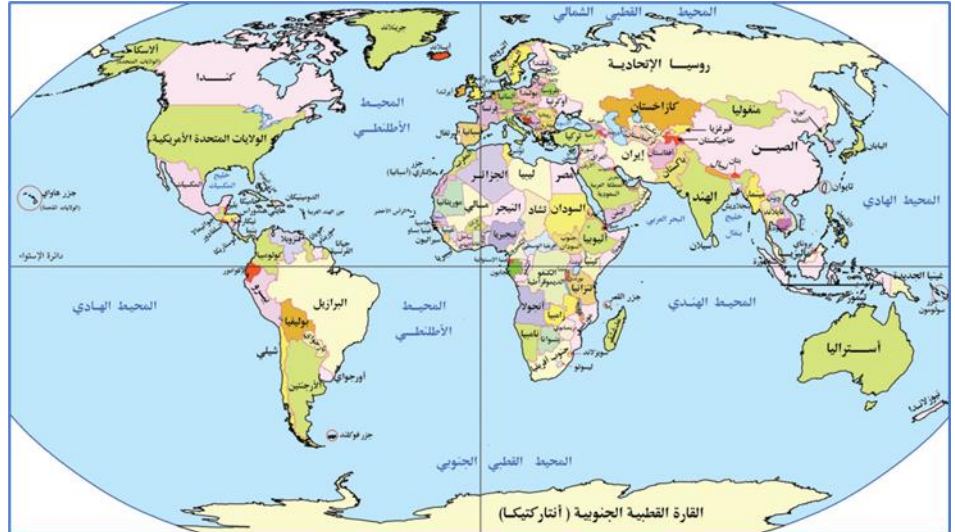
ج - شكلها المجزأ البحري د - منتجة للمطاط عالمياً

22) يعبر عن مفهوم النظام السياسي في صورته المؤسسية

أ - وضع الموازنة العامة ب - اقامة مشروعات اقتصادية

ج - التنمية البشرية الشاملة د - استثمار المناطق الصحراوية

(23) ادرس الخريطة التي أمامك ثم استنتج



دولتان تتشابه في صعوبة الإتصال الأرضي هما

- أ - اليابان ومصر
ب- منغوليا والسودان
ج - شيلي وإيطاليا
د- تركيا وبولندا

(24) حال امتداد الدولة (س) في نحو 38 دائرة عرضية ونحو 50 خط طول فإنها تتميز بـ

- أ - حسن الادارة الداخلية
ب- سهولة حصر واستثمار مواردها
ج - تنوع انتاجها المعدني
د- سهولة احتلالها وقت الحرب

(25) ساعدت حركة السكان علي نشأة الحدود السياسية لدولة

- أ - اليابان
ب- الفلبين
ج - مدغشقر
د- اندونيسيا

(26) ساهمت الجغرافيا السياسية في حل بعض المشكلات السياسية الحدودية والتي تقع بالقرب من

- أ - مضيق جبل طارق
ب- مضيق صقلية
ج - قناة السويس
د- مضيق ملقا

27) قامت الولايات المتحدة بشراء شبه جزيرة ألاسكا من الاتحاد السوفيتي عام 1867م ومنذ هذا التاريخ تغير الولايات المتحدة الأمريكية

- أ - ديموغرافيا
ب- مورفولوجيا
ج - اثنوغرافيا
د- ايولوجيا

28) حال اصبحت كشمير دولة مستقلة عن الهند وباكستان فإنها ستظل تعاني من مشكلتي

- أ - تطرف المناخ والطابع الجبلي
ب- صعوبة الاتصال والموقع الداخلي
ج - الشكل الجبلي ووجود الأقليات
د- الموقع الداخلي وتطرف المناخ



29) ادرس الخريطة التي امامك ثم استنتج
أكثر دول الخليج العربي تأثرا بالعواصف البحرية
المدمرة دولة

- أ - الكويت
ب- السعودية
ج - قطر
د- البحرين

30) تتشابه القاهرة كمنطقة قلب سياسي في الدولة مع
المدن التالية ويخرج عن ذلك مدينة

- أ - نيويورك
ب- بروكسل
ج - لندن
د- موسكو

31) (انسحاب بعض الدول يؤثر بشكل كبير علي الاستقرار والسلم العالمي)

تنطبق العبارة السابقة علي

- أ - الامم المتحدة
ب- عصبة الأمم
ج - الاتحاد الاوروبي
د- حلف الناتو



32) ادرس الخريطة التي أمامك ثم استنتج

حال حصول إقليم كتالونيا علي استقلاله

عن اسبانيا فان النتيجة المتوقعة هي

أ - زيادة عدد الدول المجاورة لاندورا وتغيير مورفولوجية فرنسا

ب- تناقص عدد الدول المجاورة لفرنسا وتغيير مورفولوجية اسبانيا

ج - تغير الموقع الجغرافي لاندورا وتغيير مورفولوجيتها

د- زيادة عدد الدول المجاورة لفرنسا وتغيير مورفولوجية اسبانيا

33) ترجع اسباب التجانس الثقافي داخل دول وسط أوروبا إلي

ب- تقديم المستوي التكنولوجي

أ - استراتيجية رسم الحدود

د- الاختلاف العرقي للسكان

ج - تعدد اللغات داخلها

34) " تنوع مناخ الولايات المتحدة الأمريكية ساهم بشكل غير مباشر في تعزيز وحدتها الوطنية "

في ضوء العبارة استنتج

تنطبق العبارة السابقة لاحد افكار

ب- ابن خلدون

أ - أرسطو

د- كيلين

ج - راتزل

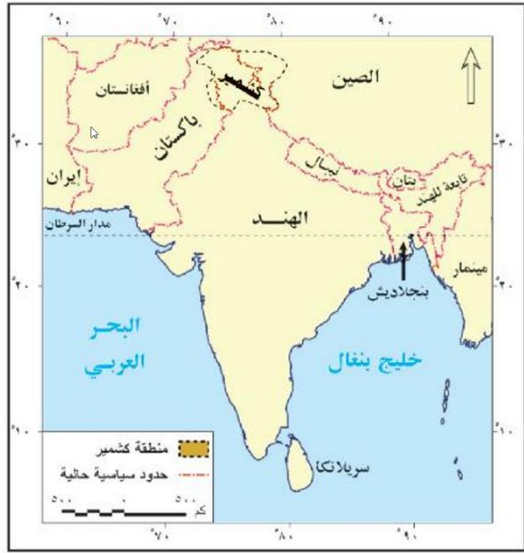
35) يمكن أن يكون السبب الرئيسي لعدم انضمام دولة ليسوتو لمجموعة الكوميسا متعلقا بـ

ب- مساحتها

أ - شكلها

د- سكانها

ج - مواردها



36) ادرس الخريطة التي أمامك ثم استنتج

في حال اتصال الحدود السياسية بنجلادش

بحدود دولة نيبال سيصبح شكل الهند

يشبه شكل دولة

أ - الامارات المتحدة

ب - سلطنة عمان

ج - المملكة المتحدة

د - المملكة المغربية

37) أي من التكتلات الاقتصادية التالية تمكنه ظروفه المناخية من إنتاج البن ؟

أ - النافتا ب - الكوميسا

ج - اتحاد المغرب العربي د - مجلس التعاون لدول الخليج العربي

38) لعبت الكوارث الطبيعية دوراً في إبراز جهود حلف الناتو بين دول الأعضاء بدولة

أ - باكستان ب - مقدونيا

ج - الولايات المتحدة د - البوسنة والهرسك

39) ظهر مصطلح الجيوبولتيك علي يد أحد علماء دولة يمر بها

أ - الدائرة القطبية الشمالية ب - الدائرة القطبية الجنوبية

ج - مدار السرطان د - مدار الجدي

40) عند اجراء الانتخابات فان معرفة عدد المتنافسين في الدوائر الانتخابية يكون في نهاية المرحلة

أ - الأولي ب - الثانية

ج - الثالثة د - الرابعة

41) تم رصد سفينة علي بعد 35 ميل بحري من خط الساحل بالبحر الأحمر متجهة نحو ميناء سفاجا المصري ثم قطعت

مساحة 19 ميل بحري فإنها بذلك قد وصلت إلي المياه

أ - الداخلية ب - الاقليمية

ج - المحايدة د - الدولية

42) من خلال دراستك يظهر التناقض في تطبيق المادة 27 من العهد الدولي الخاص بالحقوق المدنية والسياسية واضحاً في التعامل مع الأقليات في قارة

- أ - إفريقيا
ب- أوروبا
ج - أمريكا الشمالية
د- أمريكا الجنوبية

43) يتميز بسمات الحلف العسكري والتكتل الإقتصادي معاً تجمع

- أ - المغرب العربي
ب- حلف وارسو
ج - الالبك
د- الكوميسا

44) خروج هجرات من مناطق الرعي بغرب أفريقيا في النصف الثاني من القرن العشرين صاحبه

- أ - زيادة عدد السكان
ب- فرض رسوم جمركية
ج - كوارث طبيعية وجفاف
د- تغيير في النشاط الاقتصادي

الأسئلة المقالية:

45) ما مدي مصداقية العبارة؟

" زادت حدة الحرب الباردة بين المعسكرين الشرقي والغربي منذ بداية النصف الثاني من القرن العشرين "

.....
.....
.....

46) " تعد المفوضية الأوروبية الجهاز التنفيذي للاتحاد الأوروبي " دلل علي صحة العبارة

.....
.....
.....